



ସମ୍ରାଜ ଦାଗରେ ବାଝିକା

ପାଠ-୧୧



ଚିକ୍କୁ, ମିକ୍କୁ, ଚୁକ୍କୁ ତିନି ଠେକୁଆ,
ଲିତୁ ଗଛ ମୂଳେ ହୋଇଲେ ଠିଆ ।
ତିନିକୁ ତିନିହେଁ ମାରିଲେ ତିଆଁ,
ପାଇଲେନି କୋଳି ହେଲେ ହାଲିଆ ।

ଚିକ୍କୁ, ମିକ୍କୁ ହାତ ଉପରେ ଚଢ଼ି,
କୋଳି ତାଳେ ଲଗାଇଲା ଆକୁଡ଼ି ।
ପାଖେ ଥିଲା ଚିକି ଠେକୁଆ ଚୁକ୍କୁ,
ମିକ୍କୁ କାଖେ କଲା କୁତୁକୁତୁ ।



କୁତୁ କୁତୁ ଦାଉ କିଏ ସମ୍ଭାଳେ,
ହସି ହସି ମିକ୍କୁ ଗଢ଼ିଲା ତଳେ ।
ଦେଖି ମଜା ଚୁକ୍କୁ ମାଇଲା ତାଳି,
ଗଛ ତାଳେ ଚିକ୍କୁ ଥିଲା ଓହଳି ।





ଭାଙ୍ଗି ଗଲା ତାଳ ପଡ଼ିଲା ତଳେ,
ଆଃ ... କହି ଚିକୁ ଅଣ୍ଟା ସାଉଁଳେ ।

ସେହି ଭାଳେ ଥିଲା ନଅଟି କୋଳି,
ବାଣ୍ଟି ଖାଇବାକୁ ଲାଗିଲେ କଳି ।
ବେଶା ମୁଁ ଖାଇବି କେ କହେ ଛଳେ,
ମୋ ଯୋଗୁ କୋଳି ପଡ଼ିଲା ତଳେ ।



ଶୁଣୁଥିଲା ସବୁ ମାଙ୍କଡ଼ ବସି,
ଏକାଡ଼ିଆଁକରେ ତଳକୁ ଆସି ।
ବସାଇଲା ତାଙ୍କୁ କାନକୁ ଧରି
ବାଣ୍ଟି ଦେଲା କୋଳି ସମାନ କରି ।



ଗୋଟିଏ ଗୋଟିଏ ସଭିକୁ ଦେଲା,
ଆହୁରି ଦେବି ନ କର ଝାମେଲା ।



ପୁଣି ଗୋଟିଏ ଗୋଟିଏ ଦେଲା,
ଦୁଇ ଦୁଇ କୋଳି ଜଣକା ହେଲା ।



ଶେଷରେ ଗୋଟିଏ ଗୋଟିଏ ଦେଲା,
 ଭାଗକେ ତିନୋଟି କୋଳି ପଡ଼ିଲା ।
 ଦେଖୁ ମାଙ୍କଡ଼ର ବାଣ୍ଟିବା ନୀତି,
 ତାଟକା ହେଲେ ଠେକୁଆ ତିନି ।



ମାଙ୍କଡ଼କୁ କଲେ ଗୁରୁ ତାଙ୍କର,
 ପାଦ ତଳେ ତା'ର କଲେ କୁହାର ।
 ଭଲ ଏହି ବାଟ ଜାଣିଲୁ ଆମେ,
 ଭୁଲିବୁନି କେବେ ଲାଗିବ କାମେ ।



ଏବେ କହ ଓ ଲେଖ-

- କେତୋଟି ଠେକୁଆ କୋଳି ଖାଇବାକୁ ଯାଇଥିଲେ ? _____
- ଗଛ ତାଳରୁ କେତୋଟି କୋଳି ପଡ଼ିଲା ? _____
- ଠେକୁଆଙ୍କ ମଧ୍ୟରେ କାହିଁକି କଳି ହେଲା ? _____
- କିଏ ଠେକୁଆଙ୍କ କୋଳି ବାଣ୍ଟି ଦେଲା ? _____
- ମାଙ୍କଡ଼ କିପରି କୋଳି ବାଣ୍ଟିଲା ? _____
- ଆଗ କେତୋଟି ଲେଖାଏଁ କୋଳି ଦେଲା ? _____
- ତା'ପରେ କେତୋଟି ଲେଖାଏଁ କୋଳି ଦେଲା ? _____
- ଶେଷରେ କେତୋଟି ଲେଖାଏଁ କୋଳି ଦେଲା ? _____
- ଜଣକେ କେତୋଟି ଲେଖାଏଁ କୋଳି ପାଇଲେ ? _____



ମା' ଗୁଣ୍ଡୁଚି ଛୁଆମାନଙ୍କ ମଧ୍ୟରେ ଆମ୍ଭ ବାଣ୍ଟୁଥିଲା ।




ମା' ଗୁଣ୍ଡୁଚି କେତେ ଥର ଲେଖାଏଁ ଆମ୍ଭ ଦେଇଛି ? _____

ଆଉ କେତେଥର ଆମ୍ଭ ଦେବ ? _____



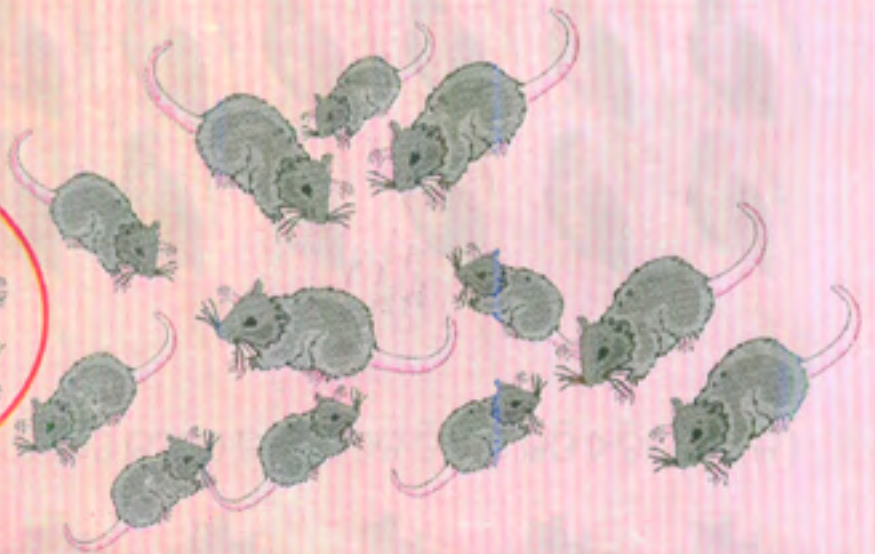
ଏହି ମାଛ ଦୁଇଟି କେଉଁ କେଉଁ ବିଲେଇ ଥାଳିରେ ଦିଆଯିବ ଗାର ଦେଇ ଚିହ୍ନାଅ ?

ବାଣ୍ଟିବା ଶେଷ ହେଲେ ଗୋଟିଏ ଭାଗରେ କେତୋଟି ମାଛ ରହିବ ? _____




ଏହି ବଡ଼କ ତିନୋଟି କେଉଁ କେଉଁ ଦଳକୁ ଗଲେ
ସବୁ ଦଳରେ ସମାନ ବଡ଼କ ହେବେ ? ଗାର ଦେଇ ଚିହ୍ନାଅ ।

● ଗୋଟିଏ ଦଳରେ ୪ଟି ମୂଷା । ମୁଣ୍ଡଳୀ ବୁଲାଇ କେତୋଟି ଦଳ ହେଲା କୁହ ।



ଗୋଟିଏ ଦଳ ସଂଖ୍ୟା = _____





ଅଭ୍ୟାସ କାର୍ଯ୍ୟ

୧. ସୂଚନା ଅନୁଯାୟୀ ଦଳ ଗଠନ କର ।

(କ) ୩ଟି କୁକୁଡ଼ା ଛୁଆରେ ଗୋଟିଏ ଦଳ, କେତୋଟି ଦଳ ହେବ ?





(ଖ) ୪ଟି ଶୁଆରେ ଗୋଟିଏ ଦଳ । ମୋଟ ଦଳ ସଂଖ୍ୟା



(ଗ) ଗୋଟିଏ ପିଲାକୁ ୪ଟି ଚକୋଲେଟ୍ ଦେଲେ କେତେଜଣ ପିଲା ଖାଇବେ ?



(ଘ)



୩ଟି ବେଲୁନ୍ ନେଇ ଗୋଟିଏ ଯେତ୍ତା କଲେ

_____ ଟି ଯେତ୍ତା

୫ଟି ବେଲୁନ୍ ନେଇ ଗୋଟିଏ ଯେତ୍ତାକଲେ

_____ ଟି ଯେତ୍ତା

୨. ନିଜେ ୧୫ଟି ବେଲୁନ୍ ଚିତ୍ର କର । ୫ଟି ବେଲୁନ୍ରେ ଗୋଟିଏ ଯେତ୍ତାକର ।



କେତୋଟି ଯେତ୍ତା କଲ ?

କେତୋଟି ବେଲୁନ୍ ବଳିଲା ?